


2 町のようす

わたしたちの町の土地のようすや使われ方は、どのようになっているのだろうか？


(1) 町全体のようす


地図を見て、土地のようすを調べてみよう。

- ◎ まず、学校がある場所を見つけて、町のどのあたりにあるか発表してみよう。
- ◎ 工場や家が多く集まっているところはどんなところか考えてみよう。

 家が多く集まっているところ


 高いところ（山）

 少し高いところ

 低いところ

 鉄道

 道路

 川や池

 小中学校