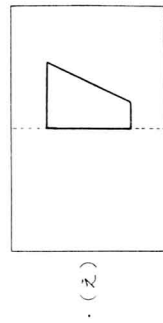
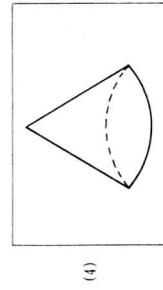
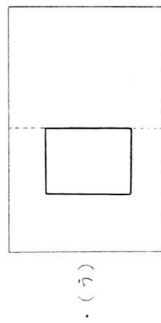
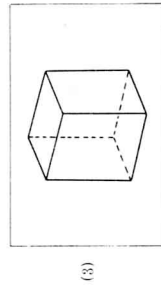
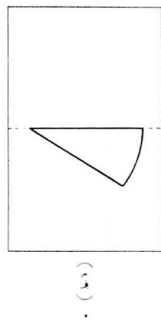
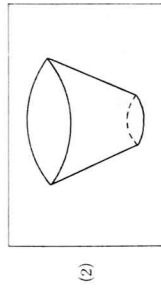
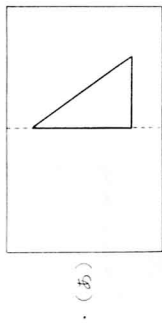
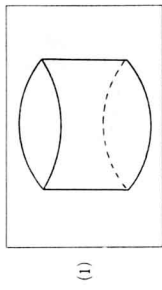
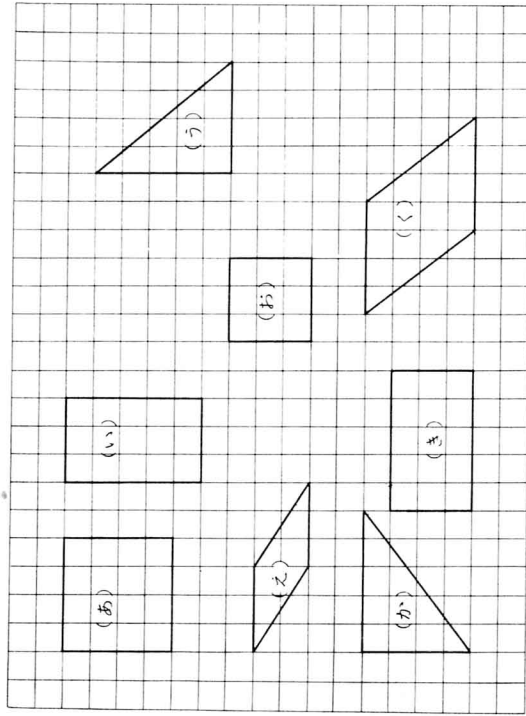


3 回転体を選び回転させた形と線と線でむすびなさい。



4 つぎの図を見て、 にあてはまる記号を書き入れなさい。



(1) 合同であるものは、どれとどれでしょう。

(い) と (う)

(え) と (お)

(2) 大きさはちがうが、形が同じものは、どれとどれでしょう。

(あ) と (お)