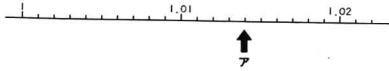


5. わる数が9のとき、商が5で、あまりが6になりました。わられる数はいくらですか。

 ⑭

6. 下の数直線で、アのめもりにあたる小数を書きなさい。


 ⑮

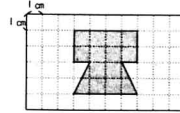
7. 下の数直線で、イのめもりにあたる分数を書きなさい。


 ⑯

- 4 -

2

1. 下の図で黒色をぬった部分の面積は、何cm²ですか。


 cm² ⑰

2. 下の にあてはまる数を書きなさい。

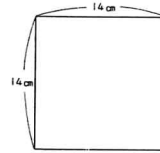
(1) 1 m² = cm² ⑱

(2) 1 km² = m² ㉑

(3) 半回転の角の大きさは 度です。 ㉒

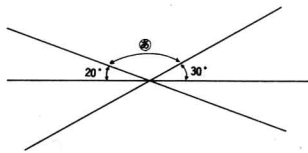
(4) 4直角は 度です。 ㉓

3. 一辺が14 cmの正方形の面積は、何cm²ですか。

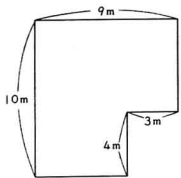

 cm² ㉔

- 5 -

4. 下の図の⑮の角度は、何度ですか。分度器を使わないでもとめなさい。


 度 ㉕

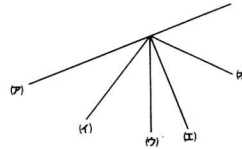
5. 下の図のような形をした庭の面積は、何m²ですか。


 m² ㉖

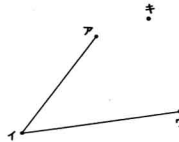
- 6 -

3

1. 下の図で、(ア)の直線に垂直な直線はどれですか。記号で答えなさい。


 ㉗

2. 下の図は、平行四辺形をかこうとして、アの点とイの点とウの点をもすんだところ。あとどの点とむすぶと平行四辺形ができますか。記号で答えなさい。


 ㉘

3. 立方体の一つの面は、どんな形をしていますか。その形の名前を書きなさい。

 ㉙

- 7 -