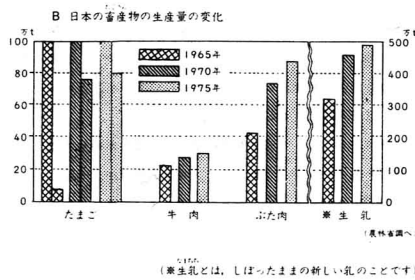
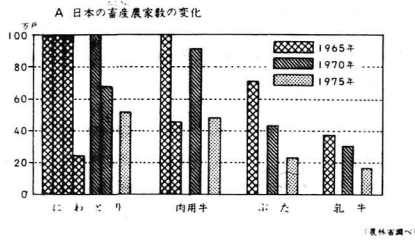


2

1. つぎの二つのグラフをみて、あとの(1)、(2)の間に答えなさい。



(1) つぎの①、②の文の にはまることを、下の の中から一つずつえらび、その記号を書きなさい。

- ① 1965年と1975年をくらべてみると、畜産農家の中で、一番へったのは、 をかっている農家です。
- ② 畜産物の生産量はふえてきています。10年間に2倍にふえたのは、 の生産量です。

ア. たまご イ. 牛肉 ウ. 生乳
エ. にわとり オ. ぶた カ. 肉用牛
キ. ぶた肉 ク. 乳牛

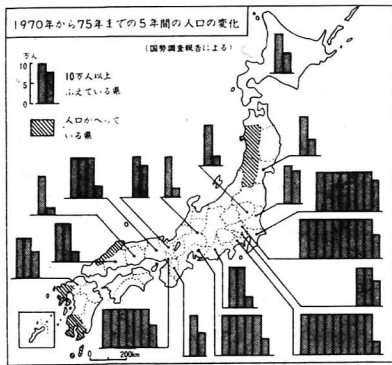
(1)	<input type="checkbox"/> ①	<input type="checkbox"/> ②
(2)	<input type="checkbox"/> ①	<input type="checkbox"/> ②

(2) A、B二つのグラフから、わかることを、次のア～エの中から一つえらび、その記号を書きなさい。

- ア. 生乳の生産は、乳牛をかっている農家数と同じように、へってきています。
- イ. 畜産農家1戸あたりの畜産物の生産量は、ふえてきています。
- ウ. たまごの生産は、にわとりをかっている農家数と同じように、ふえてきています。
- エ. 畜産農家1戸あたりの畜産物の生産量は、へってきています。

(2)	<input type="checkbox"/> ①	<input type="checkbox"/> ②
-----	----------------------------	----------------------------

2. つぎの地図は、人口のふえている県とへっている県を表したものです。これをみて、あとの間に答えなさい。



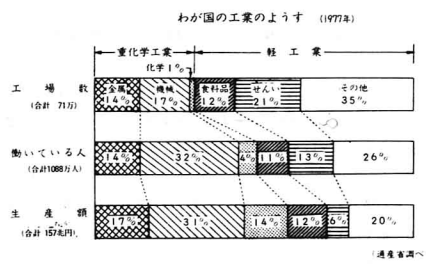
(1) 人口が一番多くふえた都府県を、次のア～オの中から一つえらび、その記号を書きなさい。

ア. 神奈川県 イ. 大阪府 ウ. 愛知県
エ. 埼玉県 オ. 東京都

(2) 人口がへっている県に共通してみられる特色を、次のア～エの中から一つえらび、その記号を書きなさい。

ア. 人口密度がとくに高い。 イ. 商業や工業が発達している。
ウ. 農村、山村、漁村が多い。 エ. 平地が多く、交通が発達している。

3. つぎのグラフをみて、あとの間に答えなさい。



(1) 重化学工業の工場数は、工場全体のなんパーセントですか。その数字を書きなさい。

(1)	<input type="text"/> %	①
-----	------------------------	---

(2) グラフの中の5種類の工業のうち、働いている人の数をもっとも多い工業の名まえを書きなさい。

(2)	<input type="text"/> 工業	②
-----	-------------------------	---

(3) 工場数の割合は少ないが、それにくらべて生産額の割合がもっとも多い工業はなんですか。5種類の工業の中から一つ選び、その工業の名まえを書きなさい。

(3)	<input type="text"/> 工業	③
-----	-------------------------	---