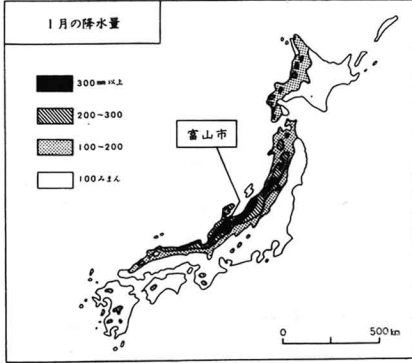
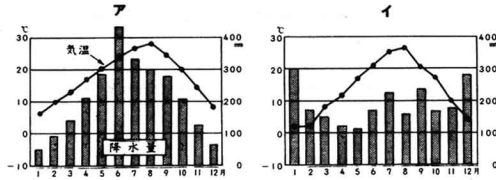


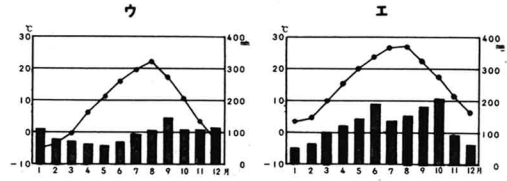
4. つぎの地図とア～エのグラフをみて、あとの問いに答えなさい。



ある都市の気温と降水量



- 12 -



(1) 富山市の気温と降水量のグラフを、ア～エの中から一つえらび、その記号を書きなさい。

(1)  ㉔

(2) 地図とグラフから、どんなことがわかりますか。わかることを、つぎのア～エの中から一つえらび、その記号を書きなさい。

- ア. 太平洋がわは、日本海がわにくらべて、冬の降水量が多くなっています。
- イ. 日本海がわは、太平洋がわにくらべて、夏の降水量が多くなっています。
- ウ. 日本では、どの地方でも、冬の降水量が夏の降水量よりも多くなっています。
- エ. 日本海がわは、太平洋がわにくらべて、冬の降水量が多くなっています

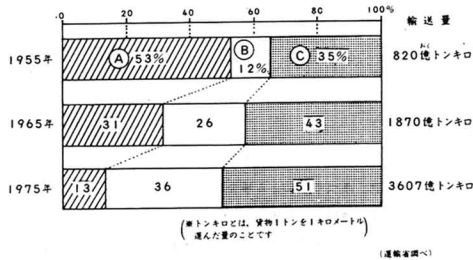
(2)  ㉕

- 13 -

3

1. つぎのグラフは、わが国の国内の貨物がどんな輸送機関で運ばれているのか、その移り変わりを表したものです。これをみて、あとの(1)～(3)の問いに答えなさい。

国内の貨物を運ぶ輸送機関の割合の変化



(1) グラフの中の、(B)の輸送機関はなんですか。つぎのア～エの中からあてはまるもの一つえらび、その記号を書きなさい。

- ア. 鉄道
- イ. トラック
- ウ. 船
- エ. 飛行機

(1)  ㉖

- 14 -

(2) (B)による輸送量がふえた理由のうち、もっともきょうなものをおの中から一つえらび、その記号を書きなさい。

- ア. 東海道新幹線など、新しい鉄道がつけられました。
- イ. 飛行機を多く利用するようになりました。
- ウ. 大きな船がつけられ、速度も速くなりました。
- エ. 道路が整備され、自動車による交通が発達しました。

(2)  ㉗

(3) 貨物輸送は年々ふえています。その理由としてもっともきょうなものを、つぎのア～エの中から一つえらび、その記号を書きなさい。

- ア. 新幹線がつけられ、列車の速度も速くなりました。
- イ. 人口がふえ、旅行する人がふえてきています。
- ウ. 産業全体が年々発達しています。
- エ. 農産物の輸入が年々ふえています。

(3)  ㉘

- 15 -