

(13)  $8 - 2 - 4$

 ⑬

(14)  $13 - 8 + 7$

 ⑭

2. すいそうに きんぎょが 6びき いました。  
そこに 8びき いれました。  
ぜんぶで なんびきに なりましたか。  
こたえは  の なかに かきなさい。

 ひき ⑮

- 4 -

3. みかんが 13こ あります。りんごは みかんより  
5こ すくないそうです。

りんごは なんこ ありますか。  
こたえは  の なかに かきなさい。

 こ ⑯

4. おはじきが 12こ あります。



(1) 3こずつ くみに すると、なんくみ できますか。  
こたえは  の なかに かきなさい。

 くみ ⑰

(2) 2れつに ならべると、1れつに なんこ ならびま  
すか。

こたえは  の なかに かきなさい。

 こ ⑱

- 5 -

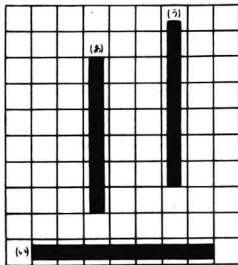
2

1. (あ)と (い)の かざりでは、どちらが ながいですか。  
こたえは  の なかに かきなさい。


 ⑲

2. (あ)と (い)と (う)の うちで、いちばん ながいのは ど  
れですか。


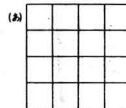
こたえは  の なかに かきなさい。


 ⑳

- 6 -

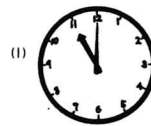
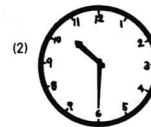
3. (あ)と (い)と (う)の うちで、いちばん ひろいのは  
どれですか。

こたえは  の なかに かきなさい。


 ㉑

4. なんじですか。

こたえは  の なかに かきなさい。


 ㉒

 ㉓

- 7 -