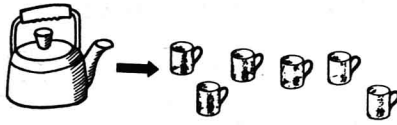


5. すいとうと やかんに、みずが いっぱい はいって  
います。

すいとうと やかんの みずを、のこらず コップに  
つぎました。

コップで、いくつぶん の ちがいが ありますか。  
こたえは  の なかに かきなさい。

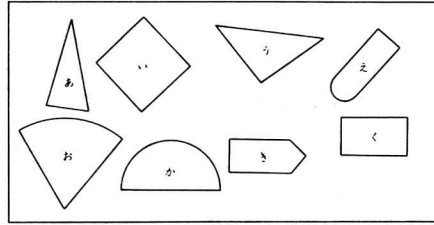


つぶん ㊦

- 8 -

3

1. いろいろな かたちを あつめました。



(1) きんかくの かたちは どれと どれですか。  
こたえは  の なかに かきなさい。

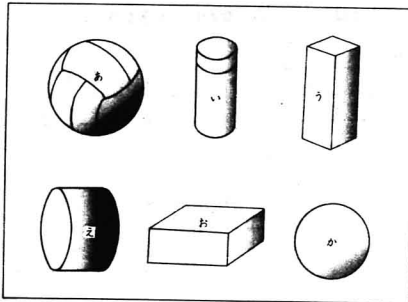
と  ㊦

(2) しかくの かたちは どれと どれですか。  
こたえは  の なかに かきなさい。

と  ㊦

- 9 -


2. いろいろな かたちの ものを あつめました。



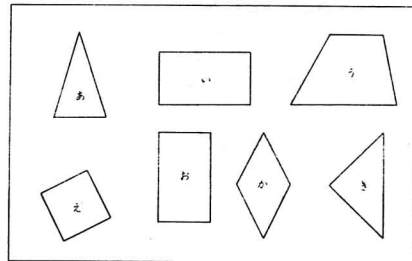
はこの かたちは どれと どれですか。  
こたえは  の なかに かきなさい。

と  ㊦

- 10 -

3.  を 2つ つかって できる かたちは、  
どれと どれですか。

こたえは  の なかに かきなさい。



と  ㊦

- 11 -