

2

1. 下の図で、テープの長さはどれだけですか。  
 こたえは  の中に かきなさい。



cm  mm ㊤

2. 1cmが16と9mmでは、何cm何mmですか。  
 こたえは  の中に かきなさい。

cm  mm ㊤

3. 57mmと6cmとでは、どちらがどれだけ長い  
 ですか。  
 こたえは  の中に かきなさい。

のほうが  だけ長い ㊤

4. 下のとけいを見て こたえを  の中に  
 かきなさい。

(1) 時こくは 何時何分です  
 か。

時  分 ㊤



(2) 10分まえの時こくは  
 何時何分ですか。

時  分 ㊤

5.  の中に あてはまる 数を かきなさい。

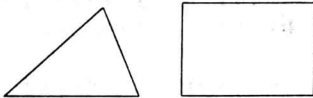
(1) 120分は  時間です。 ㊤

(2) 2日は  時間です。 ㊤

(3) 3ℓは  dlです。 ㊤

3

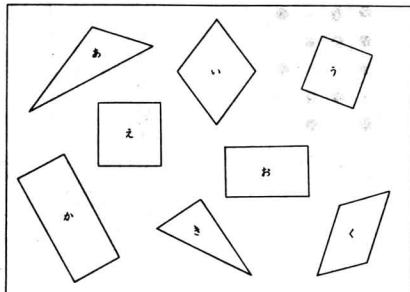
1. 下の図は 三角形と 四角形です。



(1) かどの 点を  と いいます。 ㊤

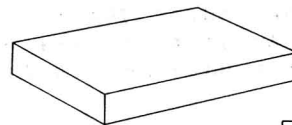
(2) へりの 直線を  と いいます。 ㊤

2. 下の図で、正方形は どれと どれですか。  
 こたえは  の中に かきなさい。



と  ㊤

3. 下の つみきには、面は いくつ ありますか。  
 こたえは  の中に かきなさい。



つ ㊤

4. ひごと ねんどで、はこの形をつくります。

(1) ねんどの たまを 何こ つきますか。

こたえは  の中に かきなさい。

こ ㊤

(2) ひごを 何本 つきますか。

こたえは  の中に かきなさい。

本 ㊤