

2. 10万より1小さい数を数字で書きなさい。


㉑

3. 次の  にあてはまる数を書きなさい。

(1) 20.3は、10を  つと、0.1を  つあつめた数です。 ㉒

(2)  $\frac{4}{7}$  は、 の4つぶんです。 ㉓

4. 次の  にあてはまる数を書きなさい。



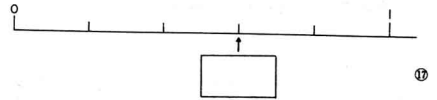
- 4 -

5. 次の  にあてはまる数を書きなさい。

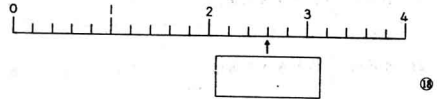
(1) 4600 の  $\frac{1}{10}$  は  です。 ㉕

(2) 25748 の 100 ばいの数は  です。 ㉖

6. 次の  にあてはまる数を分数で書きなさい。



7. 次の  にあてはまる数を小数で書きなさい。



- 5 -

2

1.  にあてはまる数を書きなさい。

(1) 3 km =  m ㉙

(2) 150 秒 =  分  秒 ㉚

2.  にあてはまるたんいを書きなさい。

(1) あつ紙1まいのあつさをはかったら、2  でした。 ㉛

(2) よしおさんが、50m 走るのにかかった時間は、10  でした。 ㉜

3. 本をはかりにのせたところ、はかりが下の図のようになりました。

本の重さは何kg何gですか。  
答えは  の中に書きなさい。



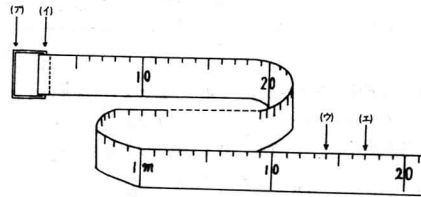
kg  g ㉝

- 6 -

4. 重さが1kg50gのびんがあります。これに、しょうゆをいれて重さをはかったら、3kg300gありました。しょうゆだけの重さは何kg何gですか。

kg  g ㉞

5. 立ちはばとびで1m14cmとびました。下のまきじゃくで、どのしるしからどのしるしまでになりますか。答えは  の中に記号で書きなさい。



から  まで ㉟

6. さち子さんは、自転車でおばさんの家に行くのに、1時間20分かかります。午前9時50分に家を出ると、おばさんの家に何時何分につきますか。

午前  時  分 ㊱

- 7 -