


24. さむい ふゆの あさ みられる ものを 二つ えら  
び、□の なかに ○を かきなさい。

- ㉑  ちゅうりっぷの はなが  
さいて いた。
- ㉒  みずたまりに こおりが  
はって いた。
- ㉓  ありが えさを はこん  
て いた。
- ㉔  きの はに みずが つ  
いて いた。
- ㉕  しろく しもが おりて  
いた。



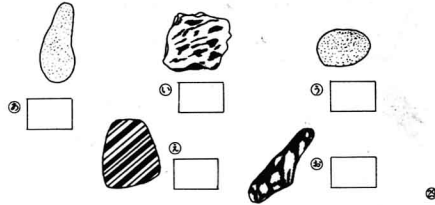
25. 「いしづみ」 あそびを するのに うまく あう い  
しを 二つ えらび、□の なかに ○を かきなさい。



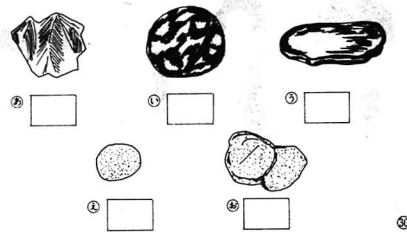
- 16 -

26. つぎの いしの えを みて もんだいに こたえな  
さい。

(1) もようの にて いる ものを 二つ えらび、□の  
なかに ○を かきなさい。



(2) かたらの にて いる ものを 二つ えらび、□の  
なかに ○を かきなさい。



- 17 -

- おわり -

検査実施月日 月 日

しょうごう	くみ	ばん	男 女	なまえ
-------	----	----	--------	-----

理科 1 年

領域	正答数	学力診断プロフィール
㉑ 生物と ㉒ その環境		0 1 2 3 4 5 6 7 8 9 10 11 12 13 14
㉓ 物質と工 ㉔ 学		0 1 2 3 4 5 6 7 8
㉕ 地球と ㉖ 宇宙		0 1 2 3 4 5 6 7 8
正答数合計		0 10 20 22 30
偏差値		偏差値 37以下 38-54 55以上
成績 5 段階		成績 3 段階 1 2 3 段階の比率(%) 10 60 30