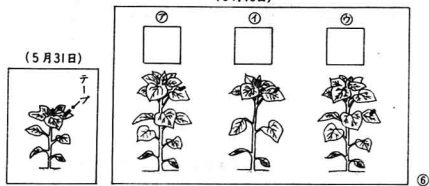
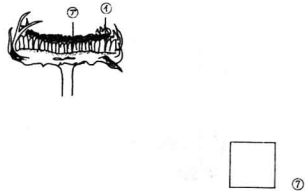


⑥ ヒマワリが、どのように そだつのか しらべるため、5月31日に テープで しるしを つけました。それから10日 すぎた ときの 図を 一つ えらび、□の 中に ○を かきなさい。



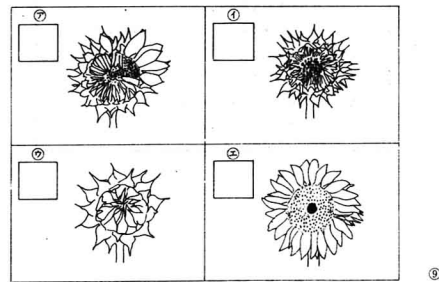
⑦ ヒマワリの 花に たねが できました。たねは、②、④の どちらから 大きく みのりますか。②、④の きごうを □の 中に かきなさい。



⑧ 大きな ヒマワリの花には、たねが なんこぐらい できますか。正しいものを 一つ えらび、□の 中に ○を かきなさい。

- ⑦ 10こぐらい
- ① 50こぐらい
- ② 100こぐらい
- ⑤ 500こぐらい
- ④ 1000こぐらい

⑨ ヒマワリの 花が さいていく じゅんに □の 中に 1, 2, 3, 4の ばんごうを かきなさい。



⑩ つぎの いきもの 中で、水の上を うごきまわっている ものを 二つ えらび、□の 中に ○を かきなさい。



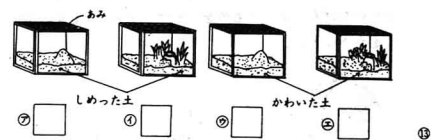
⑪ 水の中の生きもののかいかたで、正しいものを一つ えらび、□の中に ○を かきなさい。

- (ア) メダカは、しぬのも いるので、できるだけ たくさん 水そうに いれる。
- (イ) おたまじゃくしを かう 水そうには、小石や 土で しまを つくる。
- (ウ) ミズスマシや アメンボを かう 水そうは、水を たくさん いれて ふかくする。
- (エ) やごと ザリガニを いっしょに そだてる。

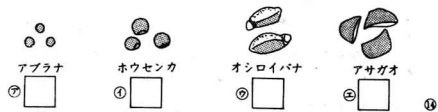
⑫ つぎの 虫の 中で、ほかの 虫を 食べるのは どれですか。正しい ものを 一つ えらび、□の 中に ○を かきなさい。



⑬ コオロギの かいかたで、正しい ものを 一つ えらび、□の 中に ○を かきなさい。



⑭ 秋の 花だんに たねを まきました。また たねは、つぎの どれですか。正しい ものを 一つ えらび、□の 中に ○を かきなさい。



⑮ かきの みが 赤く なる ころ、草や 木のみを とりに いきました。この ころ みられる みを 二つ えらび、□の 中に ○を かきなさい。

