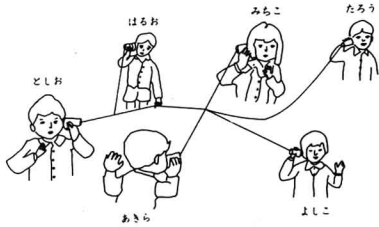


28 糸でんわを作って図のようなあそびをしました。
あきらのこえがよくきこえるのはだれとだれですか。□の中になまえをふたりかきなさい。



よくきこえるのは□さんと□さんです。㊸

- 16 -

29 雨がりの日なたと日かげのじめんのかわきかたをしらべました。

つぎの(1), (2)の もんだいについて、正しいものを一つずつえらび、□の中に○をかきなさい。

(1) どちらがはやくかわきますか。

(ア) 日なた。

(イ) 日かげ。

(ウ) どちらもおなじ。

(2) そうなるのは、なぜですか。

(ア) たいようにてらされないのて、はやくじめんにしみこむから。

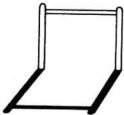
(イ) たいようにてらされてあたたかくなったから。

(ウ) たいようにかんけいないから。㊹

- 17 -

30 てつぼうのかけのうごきをしらべました。
つぎの(1), (2)の もんだいについて、正しいものを一つずつえらび、□の中に○をかきなさい。

(1) じかんがたつとかけはどうなりますか。



(ア) うごく。

(イ) うごかない。

(ウ) うごくときどきうごかないときがある。

(2) そうなるのは、なぜですか。

(ア) くもがうごくから。

(イ) たいようがうごくから。

(ウ) かぜがふくから。㊺

- 18 -

31 すなや土などをつかってたまをつくり、図のようなたまごろがしをしたとおもいます。なにてくればじょうぶなたまがでますか。よいとおもうものを一つえらび、□の中に○をかきなさい。

(ア) すなだけ。

(イ) 土だけ。

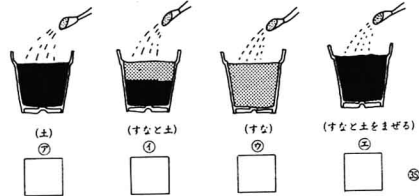
(ウ) すなにすこし土をまぜる。

(エ) すなに小石をまぜる。㊻



32 うえきばちに図のように、すなや土を入れて水のしみこみかたをしらべました。

いちばん水がしみこみやすいものを一つえらび、□の中に○をかきなさい。



- 19 -

- おわり -