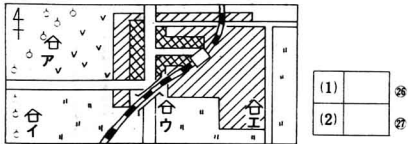


2

1 次の文にあるのは、**絵地図**の中のどの家ですか。**絵地図**の中のア〜エから一つえらんで、□の中に記号をかきなさい。

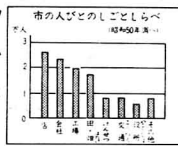
- (1) さとし君の家は、駅の南東の方にあり、まわりには、じゅうたくがたくさんあります。
- (2) みな子さんの家の東の方には、畑があり、北の方にはくだもの畑が広がっています。



(1)	□	98
(2)	□	99

2 右のグラフを見て、もんだいにこたえなさい。

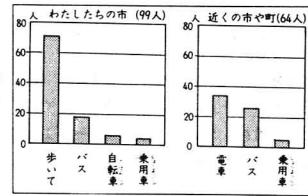
- (1) 何についてしらべたグラフですか。
- (2) 一番多く人びとがはたらいているしごとは何ですか。
- (3) 工場ではたらく人は、およそ何万人ですか。



(1)	□	28	
(2)	□	29	
(3)	□	万人	30

3 次のグラフを見てわかることを、下のア〜カの中から二つえらんで、□の中に記号をかきなさい。

かんづめ工場にはたらきにくる人



- ア わたしたちの市から、はたらきにくる人は、女の人より男の人の方が多い。
- イ はたらきにくる人は、わたしたちの市からくる人の方が、近くの市や町からくる人より多い。
- ウ はたらきにくる人は、みんなで 300 人くらいである。
- エ 近くの市や町からはたらきにくる人たちは、乗用車でくる人が一番多い。
- オ はたらきにくる人は、バスでくる人より自転車でくる人の方が多い。
- カ わたしたちの市からはたらきにくる人は、歩いてくる人が一番多い。

□	□
---	---

4 学校のうつりかわりの表を見て、下のもんだいにこたえなさい。

10年前	90年前	60年前	40年前	30年前	20年前	いま	1年前
・きゆう食をとりて学校まで	・かわらねの校しやができた	・きゆう食がはじまった	・校庭をたてて校しやができた	・校しやがふえて校庭がはじまった	・きゆう食がはじまった	・きゆう食がはじまった	・きゆう食がはじまった

- (1) 学校ができたころは、どんなたてものをかりましたか。
- (2) きゆう食がはじまったのは、今からおおよそ何年前ですか。
- (3) 次のア〜ウを、古いじゆんにならべて、□の中に記号をかきなさい。

- ア プールができた。
- イ じどう車がふえて、校庭、校しやをふやした。
- ウ かわらやねの校しやになった。

1	2	3
□	□	□

3

1 次の文にある市や町を、下の地図のア〜キの中からえらんで、□の中に記号をかきなさい。

- (1) わたしたちの市は、東北本線やばんえつ西線、ばんえつ東線などが通っていて、鉄道をりょうして県内のかく地に行くのに、わりあいべんりです。
- (2) わたしたちの町は、山々にかこまれ、田畑が少なく、冬には、雪がたくさんふります。
- (3) わたしたちの市には、大きな港があり、工場が多く、遠い外国からせい品にするげんりょうを船ではこんできます。

