

2 商店会の人々が、売りあげをふやすために、くふうしていることを、次のア～カの中から三つえらんで、□の中に記号をかきなさい。

- ア 店ではたらく人のことを考えて、休みの日をできるだけ多くとるようにしている。
- イ 車でくる人たちのために、ちゅう車場をついたり、かりたりする。
- ウ 学校を新しくついたり、プールをついたりする。
- エ 商店会がいっしょになって、大売り出しやふくびきをする。
- オ じどう公園をついて、元気にあそべるようにする。
- カ 商店がいっしょに外どうをつけて通りを明るくする。

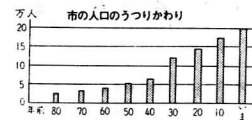
58	59	60

3 近ごろ、工場が市の中心地からはなれたところにまどまど建てられることが多いです。そうすると、どんなよいことがありますか。次のア～オの中から二つえらんで□の中に記号をかきなさい。

- ア 工場て使うげんりょうが、少なくてすむ。
- イ うるさい音などで、近くの家にめいわくをかけない。
- ウ せい品がたくさんつくれ、高く売れる。
- エ 工場どうして、きょうりよくしやすくなる。
- オ はたらく人が少してまにあう。

42	43

4 次のグラフと表を見て、下のものだいにこたえなさい。



年	市のできてから
80年前	町でたつたころ
70年前	・バスが走る
60年前	・バスが走る
50年前	・バスが走る
40年前	・バスが走る
30年前	・バスが走る
20年前	・バスが走る
10年前	・バスが走る
1年前	・バスが走る

(1) いまの市の人口は、50年前の人口のおよそ何ばいですか。

ばい	44
----	----

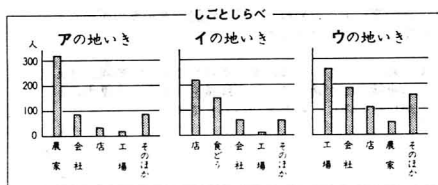
(2) 人口が、もっともきゅうにふえたのは、およそ何年前ですか。

年前	45
----	----

(3) (2)で人口がきゅうにふえたわけを、表のA～Eの中からえらんで、□の中に記号をかきなさい。

	46
--	----

5 次のグラフと絵を見て、下のものだいにこたえなさい。



(1) 田や畑の多い地いきを、グラフのA～ウの中から一つえらんで、□の中に記号をかきなさい。

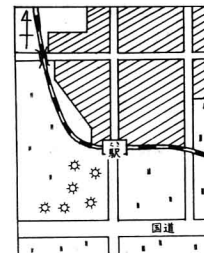
	47
--	----

(2) 絵は、どのグラフの地いきをあらわしていますか。グラフのA～ウの中から一つえらんで、□の中に記号をかきなさい。

	48
--	----

6 絵地図を見て、工場がその場所にあると、つごうのよいわけを、下のA～Eの中から二つえらんで、□の中に記号をかきなさい。

- ア 国道が近いので、げんりょうやせい品をはこぶのによい。
- イ まわりが山や田で、ながめがよい。
- ウ 平らな土地なので、じゅうたくや商店がいがてきやすい。
- エ 駅の近くなので、工場ではたらく人がかよのうにべんりである。



家の多い所

	49
--	----