

理科

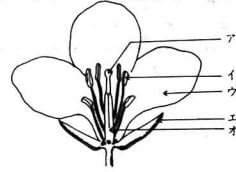
—小学校第3学年用—

注意

1. もんだいは、先生のさしずをよく聞いてやりなさい。
2. 「はじめ」といったらはじめ、「やめ」といったらやめなさい。
3. 答えは、きめられたとおりに、書きなさい。
4. わからないところがあったら、とばして前にすみなさい。
5. できたら、なんども見なおしなさい。

福島県教育センター

① つぎの図は、アブラナの花をかきあらわしたものです。図を見て、(1)、(2)、(3)の問題に答えなさい。




(1) イとエの名まえを□の中に書きなさい。

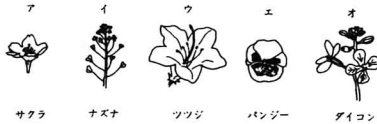
イ	エ
---	---

(2) 花がさいたあと、みになるところはどこですか。ア～オの中から正しいものを一つえらび、□の中にその記号を書きなさい。

(3) アブラナの花のつくりで正しいものを一つえらび、□の中にその記号を書きなさい。



② 春にさく花を集めました。この図を見て(1)、(2)の問題に答えなさい。



(1) ア～オのうち、アブラナの花と同じなまの花を二つえらび、□の中にその記号を書きなさい。

--	--

(2) 上の問題で答えた理由として、もっとも正しいのはどれですか。

つぎのア～エの中から一つえらび、□の中にその記号を書きなさい。

- ア. 花の色や形、大きさがアブラナの花とそっくりだから
- イ. 虫がよく集まる花だから
- ウ. 花びら、がく、おしべの数が同じだから
- エ. めしべの数が同じだから

③ ヘチマの花をよく見ると、一本のきにつぎのような花がさいています。



(1) Iの花の名まえを□の中に書きなさい。

(2) ヘチマのみができる花の名まえを、□の中に書きなさい。

④ じっけんのためヘチマのたねを8月にまいて、その育ち方を調べました。育ち方のように正しいものを一つえらび、□の中にその記号を書きなさい。

- ア. おそいで、めが出ない。
- イ. めは出たが、本葉は出ない。
- ウ. あるていど大きく育つが、じゅくしたみはとれない。
- エ. じゅくしたみが、たくさんとれる。