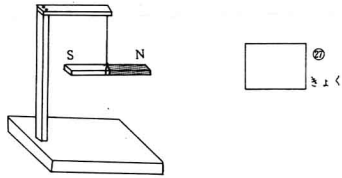
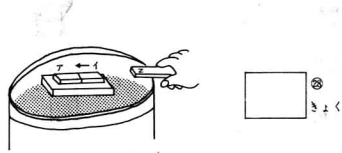


- 14 自由に動くようにしたばうじしゃくがあります。南の方をさしてとまるきょくの名まえを□の中に書きなさい。

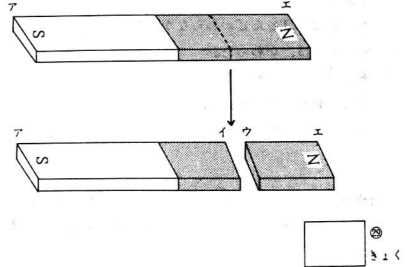


- 15 きょくのわからないじしゃくを水にうかべ、もう一つのじしゃくを近づけると←の方に動きました。イのきょくの名まえを□の中に書きなさい。

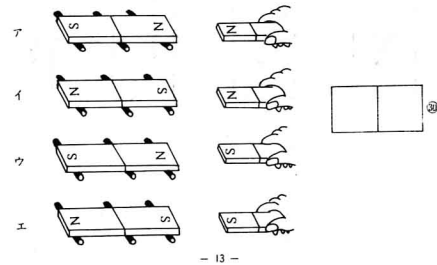


- 12 -

- 16 ゴムじしゃくを図のところで、二つに切りました。ウのきょくの名まえを□の中に書きなさい。



- 17 二本のじしゃくを近づけた時、引き合う組の記号を二つえらび、□の中に書きなさい。



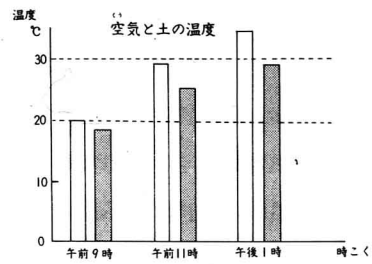
- 13 -

- 18 つぎの図は、空気や土の温度をはかっているところです。正しいはかり方をしているのはどれですか。ア～エの中から二つえらび、□の中にその記号を書きなさい。



- 14 -

- 19 つぎのグラフは、空気と土の温度を調べたものです。(1)、(2)の問題で正しいものを一つずつえらび、□の中にその記号を書きなさい。



- (1) 白い棒は、空気と土のどちらの温度を表していますか。

ア. 空気  
イ. 土

(1)  (1)

- (2) この日は、どんな天気ですか。

ア. 晴れ  
イ. くもり  
ウ. 雨

(2)  (2)

- 15 -