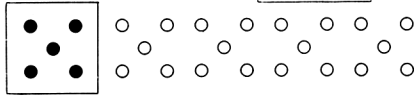


白い まるの かずは くろい
まるの かずの なんばいでしょ
う。



ばい

- 乗法九九の理解

□ に あてはまる かず

を かきいれましょう。

(1) $5 + 5 + 5 + 5 = 5 \times$ □

(2) 8×5 は $8 \times 4 +$ □ です。

- 加法, 減法を適用した問題を解く。

たかしくんの がっこうには
おとこ 男のせいとが 263人 おんな 女のせい
とが 285人 います。

せいとは ぜんぶで なん
人 いるでしょうか。

人

よしこさんは つるを 37お
りました。おねえさんと あわせ
たら 94になりました。

おねえさんは いくつ おった
でしょう。

ひろしくんは 25円の した
しきと 45円の さんかくじょ
うぎを かって 100円 だし
ました。

おつりは いくらでしょう。

円

- m, cm, mmの理解

□ に あてはまる すう


じを かきいれましょう。

(1) $7\text{ cm } 4\text{ mm} =$ □ mm

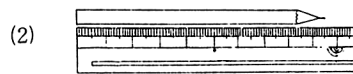
(2) $1\text{ m } 24\text{ cm} =$ □ cm

- ものさしを用いて測る。

つぎの えんぴつは いくら
ありますか。



□



□

- 日, 時, 分の関係理解

つぎの □ に あてはまる