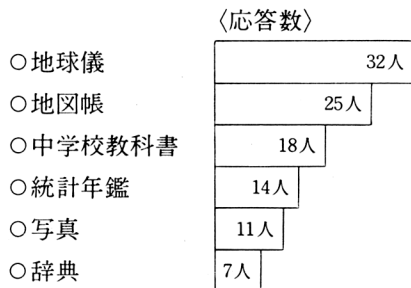
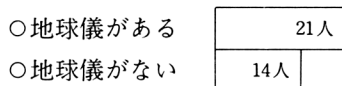


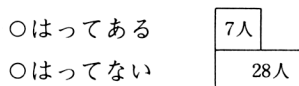
- ① 「わたしたちの住む地球」を学習するためには、どんな資料を今から集めておいたらよいでしょうか。



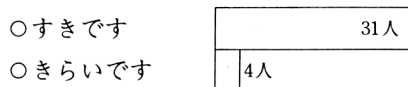
- ② あなたの家には、地球儀がありますか。



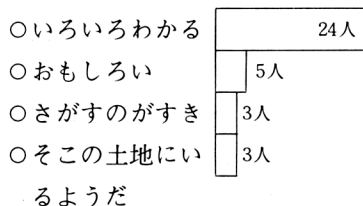
- ③ 世界地図が部屋にはってありますか。



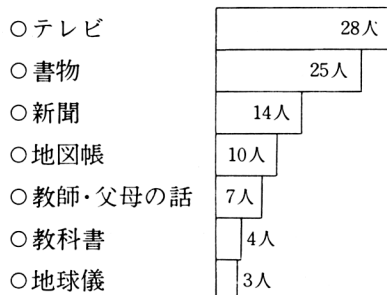
- ④ あなたは、地図を見るのが好きですか。



- ⑤ 地図を見るのが好きなわけは



- ⑥ あなたは、今までに世界のことがらを何から知りましたか。

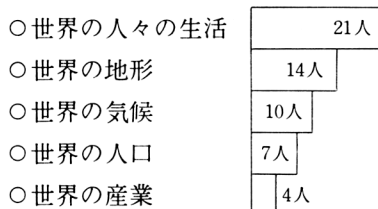


- ⑦ あなたの知っている世界の国名を10書きなさい。

〈上位10か国〉

- | | |
|----------|----------|
| ○アメリカ合衆国 | ○オーストラリア |
| ○イギリス | ○カナダ |
| ○フランス | ○インド |
| ○ソビエト連邦 | ○スイス |
| ○中国 | ○イタリア |

- ⑧ あなたは、この学習でどんなことを知りたいですか。



- ⑨ つぎのことを調べるのに、⑦の図のほかにもどの図を見たらよいと思いますか。

- 世界の人々は、なんという気候帯にもっとも多く住んでいますか。

〈正答数29人〉

- チベット高原⑦は九州とほぼ同じ緯度にあるのに冷帯になっているのはどうしてですか。

〈正答数27人〉

- 北海道より高い緯度にあるイギリスのほうが年平均気温が高いのはどうしてですか。

〈正答数16人〉

⑦ 世界の気候帯

