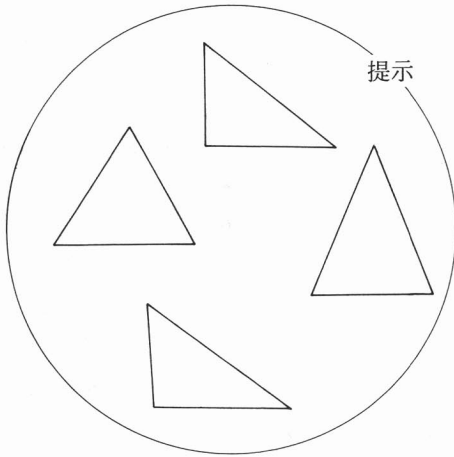


〔検証授業Ⅰ〕

本単元の導入時の展開について、1単位時間における主な手だてについて

二等辺三角形の作図



二等辺三角形の抽出



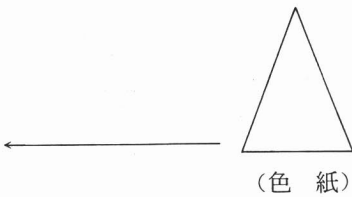
【性質】

$$AB = AC$$

$$\angle B = \angle C \quad (\text{予想})$$

【個人思考】

- 2つに折る
- 2つに切って重ね合わせる。

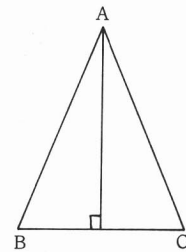
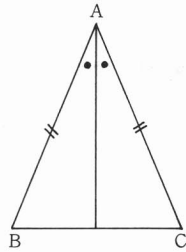
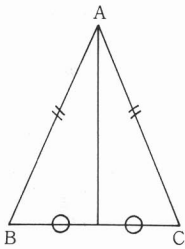


(色紙)

自分なりに見通しを持つ(個人)

(見通し) 証明の方法を考えよう。

◦ 自分の考え



◦ 自分と違った考え(班学習)

